



6° BÁSICO, GUÍA N° 22, CIENCIAS NATURALES
Sistema Reprodutor humano
2° unidad, 2020

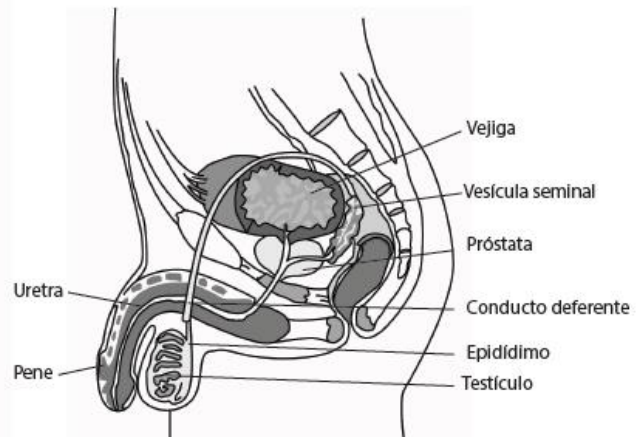
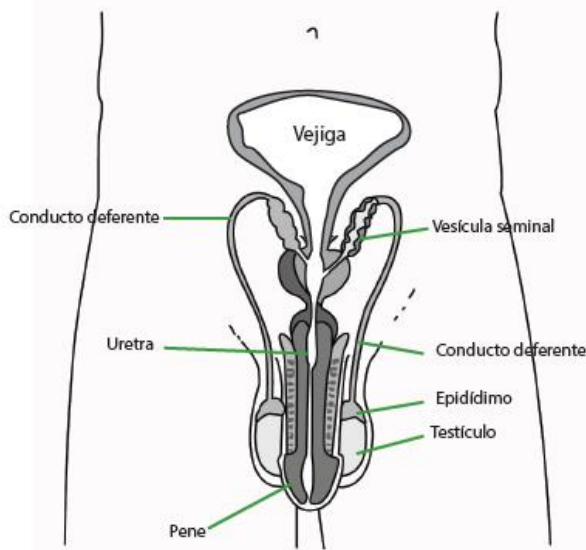
Nombre		Nº de lista
Curso	Fecha	Objetivo
6° A- B- C	Semana del 07 al 11 de septiembre	OA 4 Describir la principal función del sistema reproductor humano e identificar los gametos y gónadas con algunas de sus características.
Contenidos		Habilidades
Aparato reproductor masculino		Describir, comunicar y registrar
Instrucciones generales →		<ul style="list-style-type: none"> • Leer con atención cada ítem • Realizar las actividades según se indiquen, letra legible. • Resuelve tus dudas escribiendo al email 6to B y C tareascienciasnaturalesfc@gmail.com. Profesora Claudia Cornejo • 6to A fespina@sanfernandocollege.cl. Profesor Felipe Espina

“Veo que cada día eres mejor”

Reproducción humana (GUÍA DE CONTENIDO, NO SE ENVIA PARA REVISION)

Aparato Reprodutor masculino

Unidad: Reproducción humana



La gónada masculina (testículo), los dos testículos se encuentran por fuera del abdomen, adentro de unas bolsas de piel (escroto). La función de los testículos es producir espermios, que se almacenan y maduran en un tubo muy enrollado, llamado epidídimo. Desde ahí salen los conductos deferentes que transportan los espermios hacia la uretra. Antes de llegar a la uretra, los espermios reciben sustancias y líquido que producen las vesículas seminales y la próstata. Los espermios salen al exterior por la uretra que está al interior del pene.



Las principales estructuras del sistema reproductor masculino son: testículos, epidídimo, vesículas seminales, próstata, conducto deferente y pene.

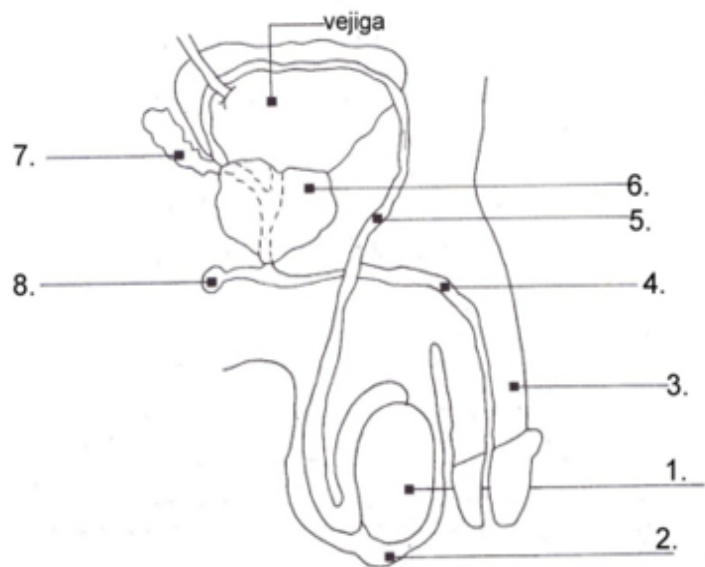
Las funciones de las estructuras del sistema reproductor masculino son:

- ✓ Los testículos producen espermios
- ✓ Los espermios de almacenan en el epidídimo
- ✓ Los espermios reciben sustancias y líquidos que producen las vesículas seminales y la próstata.
- ✓ Los espermios son transportados al exterior a través de la uretra que está en el interior del pene.
- ✓ El pene deposita los espermios en la vagina (órgano reproductor femenino)

APARATO REPRODUCTOR MASCULINO.

1. Complete el esquema anotando los nombres de las estructuras señaladas.

1.
2.
3.
4.
5.
6.
7.
8.





San Fernando College
Ciencias Naturales
Prof. Claudia Cornejo y Felipe Espina