



Semana N°28
Evaluación Mes de Octubre

Curso	Fecha	
4° Básico A-B-C	Semana lunes 26 de octubre al 30 de octubre.	
Objetivo de Aprendizaje	Contenido	Habilidades
OA17: Demostrar que comprenden una línea de simetría: <ul style="list-style-type: none"> • identificando figuras simétricas 2D. • creando figuras simetrías 2D. • dibujando una o más líneas de simetría en figuras 2D. • usando software geométrico 	Simetría	Comprender - Aplicar – Calcular – Comunicar.

“La educación es el arma más poderosa que puedes usar para cambiar el mundo”

Nelson Mandela



Este documento contiene la **evaluación** correspondiente al mes de octubre.

Resuelve los ejercicios en tu cuaderno, una vez que los termines ingresa al link que encontrarás **al final de este documento**, ese link te llevará a un formulario de Google donde podrás completar tus datos, responder las preguntas de contenido y finalmente subir la o las imágenes con el desarrollo de tus ejercicios. (obligatorio)

Además, deberás responder las preguntas de autoevaluación entrando al siguiente link: <https://forms.gle/eCkNLnnK3EGcwg8b7>

Te recordamos que cualquier consulta por favor debes realizarla a tu profesora de asignatura:

Si eres estudiante del 4° Básico A, a la profesora Agripina Castro: acastro@sanfernandocollege.cl


Si eres estudiante del 4° Básico B, a la profesora Merilan Correa: mcorrea@sanfernandocollege.cl,

Si eres estudiante del 4° Básico C, a la profesora Nancy Hermosilla: nhermosilla@sanfernandocollege.cl,

Preguntas de Contenido

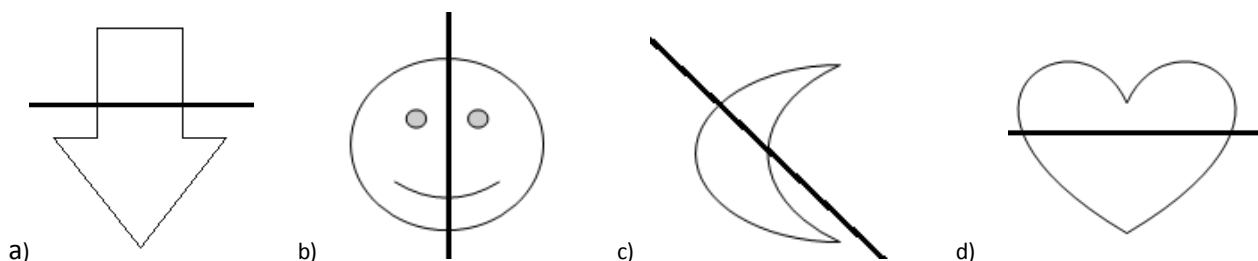
Simetría

1.- ¿Cuál de las siguientes figuras son simétricas



- a) I y IV
- b) II y IV
- c) III y V
- d) I, II y V


2.- ¿En cuál de las siguientes alternativas se representa correctamente la simetría respecto al eje de simetría marcado?





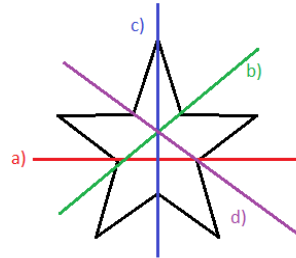
3.- ¿Cuántos ejes de simetría tiene la siguiente figura?

- a) 1
- b) 2
- c) 3
- d) 4

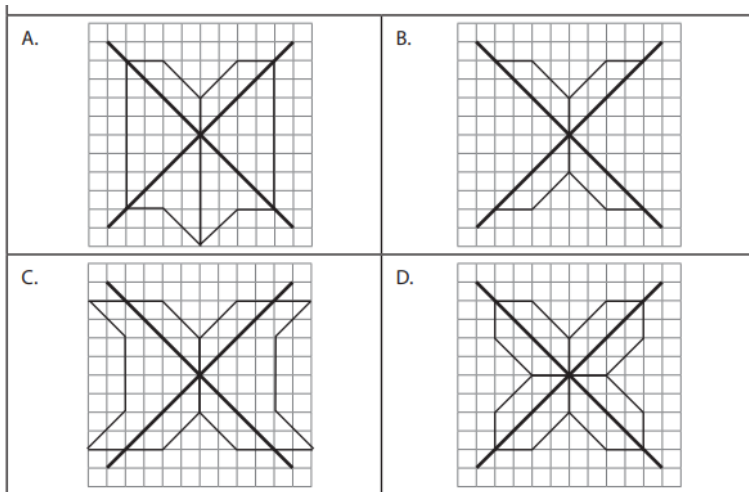


4.- En la siguiente figura ¿Cuál de las siguientes rectas es un eje de simetría?

- a) La recta roja
- b) La recta verde
- c) La recta azul
- d) La recta lila



5.- ¿En cuál de las siguientes alternativas se representa correctamente la simetría respecto de los dos ejes diagonales de simetría marcados?



6.- ¿Cuántos ejes de simetría presenta la mariposa de la imagen?

- a) 0
- b) 1
- c) 2
- d) 3



Para ingresar al formulario de la evaluación de octubre entra al siguiente link:
<https://forms.gle/KZWauIGE4bUwuDsg9>

Importante: el formulario sólo te permitirá un intento, ingresa a él cuando tengas certeza de tus respuestas y la fotografía de tus desarrollos.