




## GUÍA: GEOGRAFÍA DE CHILE



| Nombre                                    |       |  | Nº de lista      | Objetivo  |
|---|-------|--|------------------|---|
| Curso                                     | Fecha | Puntaje ideal  | Puntaje obtenido | Caracterizar las grandes zonas de Chile y sus paisajes (Norte Grande, Norte Chico, Zona Central, Zona Sur y Zona Austral) considerando ubicación, clima (temperatura y precipitaciones), relieve, hidrografía, población y recursos naturales, entre otros. |
| 5° __                                     |       | 20 puntos  |                  |   |
| Contenidos                                |       | Habilidades  |                  |   |
| Unidad 1: Diversidad geográfica de Chile. |       | <ul style="list-style-type: none"> <li>✓ Conocer</li> <li>✓ Comprender</li> <li>✓ Fundamentar</li> </ul> |                  |   |




Chile es un país de América ubicado en el extremo sudoeste de América del Sur. Su capital es la ciudad de Santiago. Chile está constituido por tres zonas geográficas. La primera de ellas, Chile continental, comprende una larga y estrecha franja de tierra en la costa del Cono Sur. Alcanza un largo de 4.270 km. Limita con Perú al norte, Bolivia al nordeste y Argentina al este. La segunda zona es Chile insular, corresponde a un conjunto de islas de origen volcánico en el océano Pacífico Sur: el archipiélago de Juan Fernández y las islas Desventuradas, pertenecientes a Sudamérica, la isla Salas y Gómez y la isla de Pascua, ubicadas en Oceanía. La tercera zona corresponde al Territorio Chileno Antártico. Debido a lo anterior, Chile se define como un país tricontinental.



Antes del descubrimiento de América, las tierras situadas al sur del desierto de Atacama ya se llamaban “Chili” en la tradición indígena. Una vez instalados, los conquistadores españoles siguieron llamando a la región del sur de esa forma, a veces también conocida como «Valle de Chile», nombre que se extendió posteriormente a todo el país.

Existen varias hipótesis sobre el origen del término «Chile». Para Agustín de Zárate y Jerónimo de Vivar, la palabra “Chile” se originaría en la palabra quechua *chire*, que significa “Frío”. Para Diego de Rosales, provendría de “Tili”, Cacique picunche que gobernaba este valle a la llegada de los incas, antes del arribo de los españoles. Miguel de

Olivares sostiene que proviene de “chili”, pájaro de manchas amarillas en las alas. Para Miguel Luis Amunátegui, provendría de la voz aimara “chilli”, lugar “donde se acaba la tierra”.



En noviembre de 1520, Fernando de Magallanes fue el primer explorador europeo en reconocer el actual territorio chileno al recorrer el estrecho que lleva su nombre. Posteriormente, en 1535 los conquistadores españoles intentaron conquistar las tierras del «valle de Chile» tras conquistar el Imperio inca. La primera expedición, liderada por Diego de Almagro, fracasó. Pedro de Valdivia intentó nuevamente conquistar, atravesando el desierto de Atacama en 1540. Valdivia fundó varios asentamientos. El primero y principal, el 12 de febrero de 1541, Santiago de Nueva Extremadura. Tiempo más tarde, Valdivia inició una campaña militar hacia los territorios más al sur, donde murió tras una emboscada tendida por el toqui Lautaro. Así, Chile fue una provincia pobre perteneciente al rico Virreinato del Perú, cuya economía estaba destinada a sustentar a dicho virreinato con materias primas como cuero, sebo y trigo.



En cuanto a lo geográfico, Chile se ubica a lo largo de una zona altamente sísmica debido a las placas de Nazca y Sudamericana.

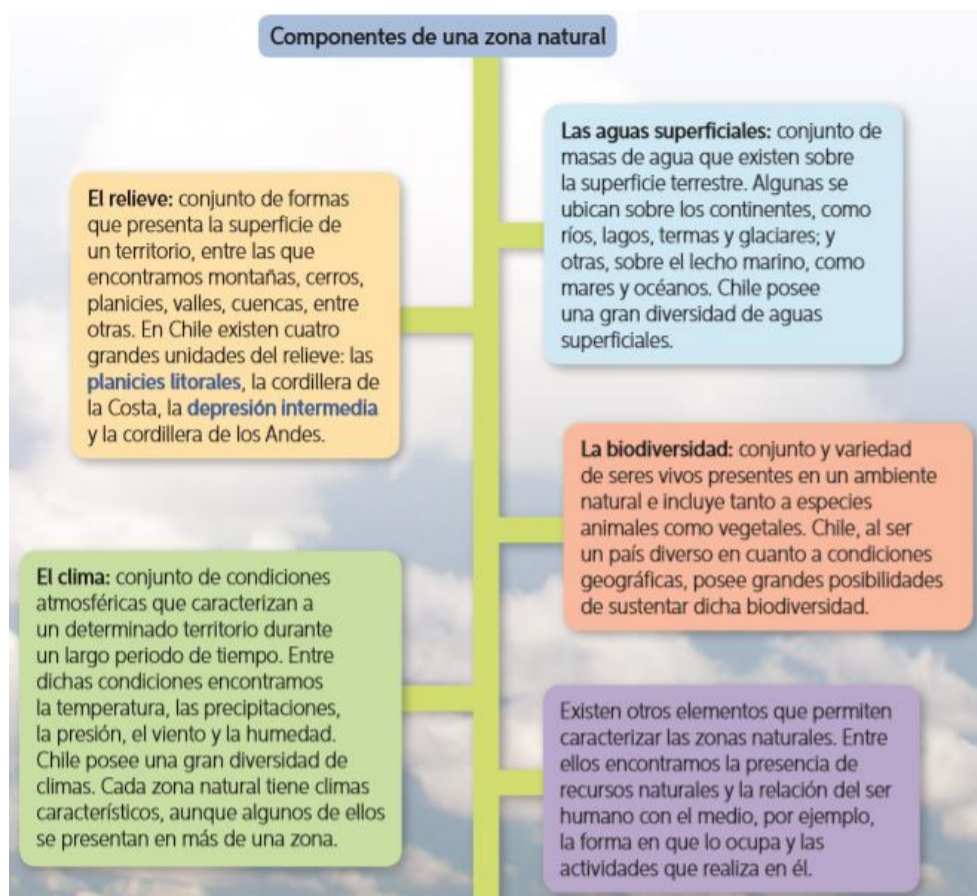
El relieve chileno está integrado por la depresión intermedia, que cruza todo el país, rodeada por dos sistemas montañosos que componen cerca del 80% del territorio. Por otro lado, la cordillera de los Andes se ubica al este y la cordillera de la Costa al oeste (de menor altura con respecto a la de los Andes). Las planicies litorales permiten el desarrollo de localidades costeras y grandes puertos. Por último, cabe destacar que la zona Central es la región más habitada del país. La depresión intermedia se destaca como un fértil valle que permite el desarrollo agrícola.





## Las zonas naturales de Chile

El territorio chileno se puede dividir en cinco grandes zonas naturales: Norte Grande, Norte Chico, Zona Central, Zona Sur y Zona Austral. Estas zonas naturales se caracterizan por los elementos físicos que las forman, que a su vez las diferencian entre sí. ¿Qué elementos caracterizan una zona natural?



### Actividad



A partir de la lectura comprensiva de la guía, responde en tu cuaderno con letra clara y ordenada, cuidando tu redacción y ortografía:

1. ¿Por qué Chile es un país tricontinental? Explica. **(3 puntos)**
2. Explica cuatro formas distintas que definen la palabra "Chile". **(4 puntos)**
3. ¿Cuál es la importancia de Fernando de Magallanes? **(2 puntos)**
4. ¿Cuál es la importancia de Lautaro? **(2 puntos)**
5. Describe el relieve chileno **(5 puntos)**
6. Señala y explica con tus palabras los 4 elementos que caracterizan las zonas naturales. **(4 puntos)**



Si tienes alguna duda o inquietud al desarrollar la guía, puedes enviarme un mail a:

[vromero@sanfernandocollege.cl](mailto:vromero@sanfernandocollege.cl)

Recuerda que debes registrar las actividades en tu cuaderno, pues serán revisadas una vez que retornemos a clases.



San Fernando College  
Departamento de Historia, Geografía y Ciencias Sociales  
Prof. Sr(a): Valeria Romero Castillo